

Липтуева Мария

Школьный этап Всероссийской олимпиады школьников по географии
в 2020 - 2021 учебном году

8 класс

Время выполнения заданий- 120 минут

Максимальное количество баллов- 55 баллов

ТЕСТОВЫЙ ТУР

1. Определите географический объект по его координатам:
94° 15' в.д. и 66 °25' с.ш. *Озеро Виви* 2
2. Назовите пролив, отделяющий Северный остров Новой Земли от Южного, соединяющий Баренцево море с Карским морем *пролив Маточкин Шар* 2
3. Определите, когда по местному времени совершит посадку в Екатеринбурге (4-й часовой пояс) самолет, вылетевший из Москвы (2-й часовой пояс) в 11 часов по московскому времени и находившийся в полете 2 часа:
А. 9 часов
Б. 13 часов
 В. 15 часов 1
Г. 17 часов
4. В состав, какого федерального округа входит Республика Бурятия и Забайкальский край:
А. Уральского
 Б. Сибирского 1
В. Дальневосточного
Г. Приволжского
5. Первый русский путешественник, достигший северо-западных берегов Тихого океана
А. Афанасий Никитин
 Б. Иван Москвитин 1
В. Ермак Тимофеевич
Г. Семен Дежнев
6. Какое из утверждений о тектоническом строении России является верным?:
А. в основании Западно-Сибирской равнины лежит молодая полеозойская платформа
 Б. в основании Средне-Сибирского плоскогорья лежит область полеозойской складчатости 1
В. Кавказские горы образовались в эпоху мезозойской складчатости
Г. в настоящее время на территории России продолжается герцинское горообразование

7. Расположите низменные равнины России с запада на восток:

- А. Яно-Индигирская
- Б. Северо-Сибирская
- В. Колымская

Г; Б; А; В;

1

Г. Большеземельская тундра

8. В акватории какого моря находятся Медвежьи острова?

- А. Чукотского
- Б. Лаптевых
- В. Восточно-Сибирского
- Г. Охотского

1

9. Ступенчатый рельеф – траппы Средней Сибири объясняется:

- А. действием многолетней мерзлоты
- Б. наличием большого числа горстов и грабен
- В. движением земной коры

1

Г. чередованием твердых магматических пород и мягких осадочных

10. Установите единственно правильное соответствие «территория - основная экологическая проблема»:

1

- А. Европейский Север – оттаивание многолетней мерзлоты при нефтедобыче
- Б. Калмыкия – загрязнение грунтовых вод
- В. острова Новая Земля – радиоактивное загрязнение
- Г. Краснодарский край – кислотные дожди

11. Для какого района России не характерна многолетняя мерзлота:

- А. Корякское нагорье
- Б. Сихотэ-Алинь
- В. Чукотский полуостров
- Г. полуостров Таймыр

1

12. Выберите ошибочное положение характеристики зоны пустынь на территории России:

- А. расположена в бассейне Каспийского моря
- Б. расположена в умеренном климатическом поясе
- В. преобладающий тип почв серо-бурые
- Г. много форм рельефа созданных ветром

1

13. Выделите общую черту природы Восточно-Европейской равнины и Средне-Сибирского плоскогорья:

- А. наибольшая их площадь относится к бассейну Северного Ледовитого океана
- Б. на них произрастают хвойные и широколиственные леса
- В. для них характерны бурые лесные и коричневые почвы
- Г. в их пределах есть участки, расположенные на щитах

0

14. Выберите правильное утверждение:

А. Россия расположена в 9 часовых поясах

Б. береговая линия России (с учетом островов) – самая длинная среди государств мира

В. в России протекают реки, принадлежащие бассейнам трех океанов и бассейну внутреннего стока

Г. на территории есть горные массивы всех эпох складчатости

1

15. Расположите реки России в порядке возрастания их длины:

А. Терек

Б. Лена

В. Печора

Г. Урал

А; В; Г; Б

1

16. Установите соответствие между городом и типом климата:

1. Иркутск

А. Область континентального климата

2. Омск

Б. Область арктических пустынь и тундр

3. Диксон

В. Область резко-континентального климата

0

4. Благовещенск

Г. Область муссонного климата

17. Правильны ли утверждения о горах Южной Сибири? (да/нет)

А. Это система низких и средневысотных хребтов вытянутых в меридиональном направлении *-нет*

Б. Климат Южной Сибири изменяется от континентального до резко континентального *-да*

В. Максимум осадков выпадает на наветренных склона Алтая, Кузнецкого Алатау и Западного Саяна *-да*

Г. Характерной особенностью гор Южной Сибири – наличие большого количества межгорных котловин *-да*

4

18. Реки Обь, Енисей, Лена текут в основном в направлении с юга на север. Это объясняется:

А. тектоническим строением

Б. общим наклоном территории к северу

В. чередованием гор и равнин в рельефе

Г. особенностями слагающих пород

1

19. Выберите ряд, в котором горные системы располагаются в порядке убывания своего возраста:

А. Кордильеры – горы Южной Сибири – горы Больших Зондских островов

Б. Большой Водораздельный хребет – Гималаи - Урал

В. Анды – Кунь-Лунь – Скандинавские горы

Г. Пиренеи – Тянь-Шань - Памир

1

20. Наиболее крупным по площади и самым маленьким по численности населения европейской части России является:

А. Поволжье

Б. Европейский Юг

В. Центральная Россия

Д. Европейский Север

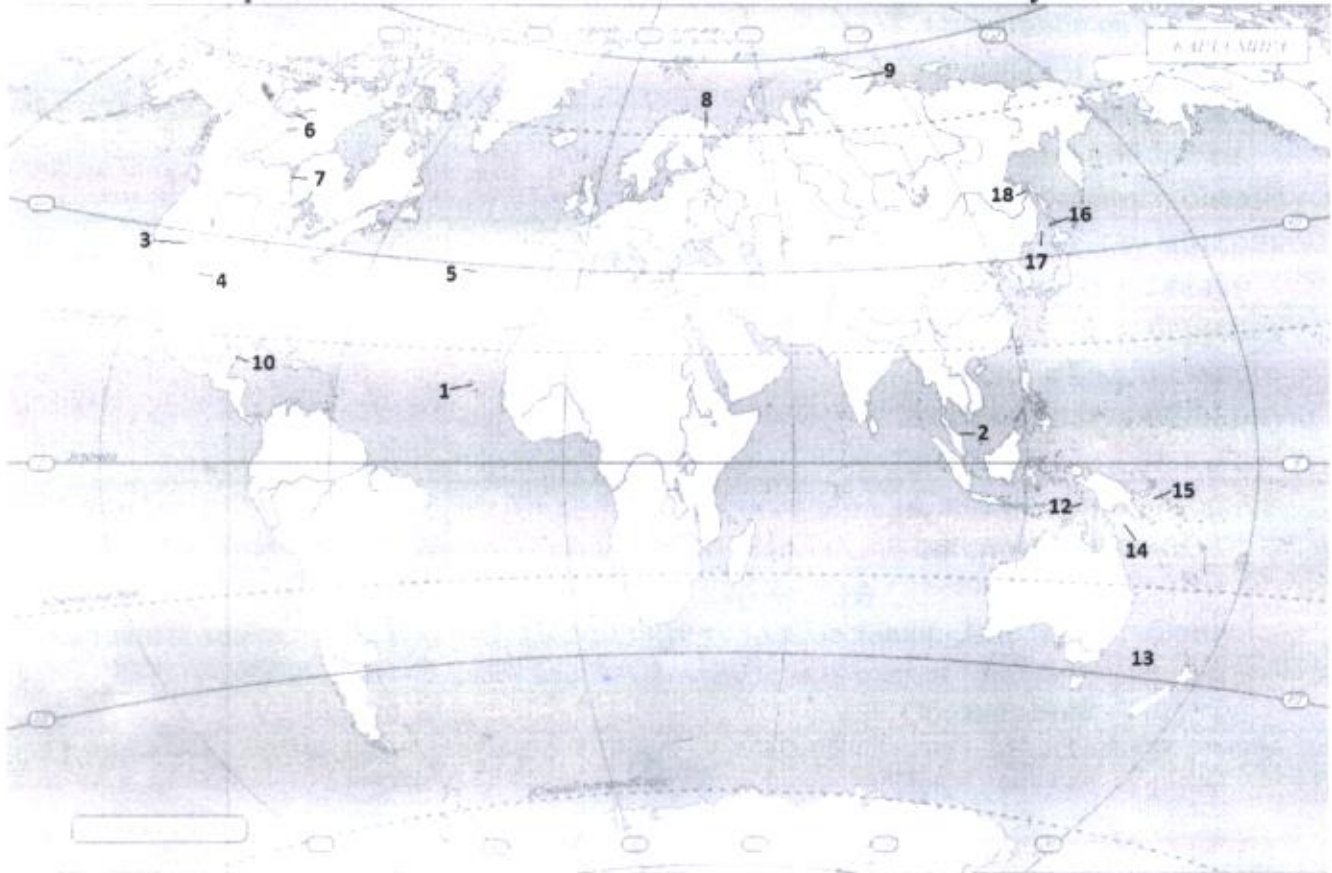
1

23 балла

АНАЛИТИЧЕСКИЙ ТУР

8 КЛАСС

1. Используя контурную карту, определите географический объект по его описанию и определите его местоположение. Заполните таблицу.



Заполните таблицу

Объект	Номер на карте	Описание
Полуостров Малакка	2	Южная оконечность полуострова Индокитай, омываемая на западе Андаманским морем, на востоке Южно-Китайским морем, а на юге одноименным проливом
Виннипег	7	Пятое по площади пресноводное озеро Канады, и 12 по площади пресноводное озеро мира

2






2

		Межостровное море расположенная между одноименными островами, Новой Британие и Новой Гвинеей	0
острова Зелёного Мыса	1	Архипелаг из десяти крупных и 8 мелких островов, расположенный в центральной части Атлантического океана	2
Жатарецкий пролив	17	Пролив между материком Евразия и о. Сахалин	2
Колорадо	3	Крупная река, берущая начало, в Скалистых горах образуя обширную дельту	2
		Самая северная горная система в России	0

10 баллов

2. Условные знаки плана и карты. Подпишите условные знаки. Заполните таблицу.

№	Условный знак	Обозначение	
1.		Овраг	1
2.		Балота	1
3.		Обрыв	1
4.		Лиственный лес	1
5.		Хвойный лес	1
6.		Смешанный лес	1
7.		Железная станция	1
8.		Школа	1
9.		Железный мост металлический	1
10.		Населенный пункт	1

11.		Ключ	1
12.		Кухаршина	1
13.		Церковь	1
14.		Фруктовый сад	1
15.		Река направление течения	1

15 знаков

Убр Amor: 48 знаков